

A

2019
KURUMSAL

5.
sınıf

KİTAPÇIĞI

5. SINIF KURUMSAL DENEME SINAVI

Adı Soyadı:

Okulu:

Sınıfı / Şubesi:

Numarası:

SÖZEL BÖLÜM

Dersler	Soru Sayısı	Toplam Soru Sayısı	Sınav Süresi (Dakika)
TÜRKÇE	15	45	65
SOSYAL BİLGİLER	10		
DİN KÜLTÜRÜ VE AHLAK BİLGİSİ	10		
İNGİLİZCE	10		

SAYISAL BÖLÜM

Dersler	Soru Sayısı	Toplam Soru Sayısı	Sınav Süresi (Dakika)
MATEMATİK	15	30	45
FEN BİLİMLERİ	15		

ÖĞRENCİLERİN DİKKATİNE!

1. Sınıf öğrenci yoklama listesinde belirtilen sınıfta ve sıra numarasında oturunuz.
2. Kitapçık türünü cevap kâğıdındaki ilgili alana kodlayınız.
3. Cevap kâğıdı üzerindeki kodlamaları kurşun kalemle yapınız.



Altın Nokta

NARTEST





TÜRKÇE

5. SINIF KURUMSAL DENEME SINAVI

A

Bu testte 15 soru vardır.
Cevaplarınızı, cevap kağıdına işaretleyiniz.

1-4. soruları aşağıdaki metne göre cevaplayınız.



Ağaçkakan, ağaç kabuklarını gagasıyla delerek kabukların altındaki böcek ve tırtılları avlayan bir kuş türüdür. Gagası son derece sivri ve ayakları dört parmaklı olan ağaçkakanlar, keskin tırnakları sayesinde ağaçlara çok iyi tutunabilmektedir. Ağaçkakanlar ağaçların kabuklarını oyarken kuyruklarından destek alarak dengelerini sağlamaktadır. Ağaç üzerinde kısa ve ani sıçramalarla kolayca hareket edebilir. Ağaçkakanlar son derece ürkek kuşlar olduklarından çok çabuk kaçabilmektedir. Genellikle ormanların tenha yerlerini ve parkları tercih eder. Yuvalarını da oydukları ağaç kovuklarına yapar. Ağaçkakanların kafatasları son derece güçlü olmaktadır. Bu sayede ağaç kabuklarını delerken oluşan sarsıntıdan beyinleri korunmaktadır. Ağaçkakanlar kabuklara vurduklarında aldıkları sese göre böcek ve tırtılların yerini tespit edebilmektedir. Ağaçkakanlar kabuklarda açtıkları deliklerden solucan gibi uzun olan dillerini uzatarak böcekleri yiyebilmektedir. Ağaçkakanların bu yaptıkları ağaçların kurummasına neden olduğundan birçok çiftçi tarafından kovalanan kuşlar olmaktadır. Ağaçkakanlar ilkbahar mevsiminde ağaçların kabuklarını odun kısmına kadar daire şeklinde oyarak böcekleri çıkarmaktadır. Ağaçkakanlar sadece böcek ve tırtılları değil aynı zamanda ceviz, badem gibi sert kabuklu ve iri taneli yemişleri de yemektedir. Bu yemişleri ağaçların çatlaklarına sıkıştırıp sonra da içlerini yiyerek kabukları o çatlaklarda bırakmaktadır.

1. Bu parçada ağaçkakanlarla ilgili olarak aşağıdakilerden hangisine değinilmemiştir?

- A) Beslenme şekillerine
- B) Fiziksel özelliklerine
- C) Yaşam sürelerine
- D) Avlanma biçimlerine

2. Yukarıdaki parçada aşağıdakilerden hangisi kullanılmamıştır?

- A) Benzetme
- B) Tanım
- C) Karşılaştırma
- D) Nesnel yargı


3. Parçaya göre ağaçkakanların birçok çiftçi tarafından kovulmasının sebebi aşağıdakilerden hangisidir?

- A) Ağaçların kurummasına sebebiyet vermeleri
- B) Tahıllara zarar vermeleri
- C) Gürültü kirliliği oluşturmaları
- D) Ağaçtaki meyveleri yemeleri

4. Parçada altı çizili cümlede virgülün kullanılma sebebi aşağıdakilerin hangisinde doğru olarak açıklanmıştır?

- A) Yinelenen sözcüklerin arasına virgül konur.
- B) Eş görevli sözcüklerin arasına virgül konur.
- C) Yüklemden uzak düşmüş özneyi belirtmek için virgül konur.
- D) Cümleleri ayırmak için virgül konur.

5.



Mamut, filgiller familyasının nesli tükenmiş bir cinsi. Nesli tükenmeden önce Kuzey Amerika, Avrupa, Asya ve Afrika'da birçok farklı türleri ile yayılım göstermiştir. 4,5 m boy ve 8 ton ağırlığa kadar varan bu cinsin son üyeleri MÖ 1700 yılında yaşamıştır.

Bu metinden aşağıdakilerden hangisi kesin olarak çıkarılabilir?

- A) Mamutlar yaşadıkları dönemde dünyanın birçok kıtasına dağılmışlardır.
- B) Her mamut ortalama 4,5 m boy ve 8 ton ağırlığına sahiptir.
- C) Mamutların neslinin tükenmesine insanların bilinçsiz avlanması sebep olmuştur.
- D) Son mamut üyeleri MÖ 1700 yılından önce hayatlarını kaybetmiştir.

6.


Tanık olmadığımız bir olayla ilgili ne söyleyeceğimizi iki kere düşünmek gerekir. Aksi takdirde ___ ummadığımız tepkilere yol açabilir. Bu tepkiler ___ hatta daha vahim sonuçlarla karşı karşıya kalmamıza da sebep olabilir.

Bu metinde boş bırakılan yerlere sırasıyla aşağıdaki deyimlerden hangileri getirilmelidir?

- A) ulu orta konuşmak - başımızı derde koyabilir
- B) lafi ağzında gevelemek - oku yaydan çıkarabilir
- C) çamur atmak - yelkenleri suya indirebilir
- D) yabana atmak - süt dökmüş kediye dönebilir.

7.

Kitap kurdu 100 çocukla gerçekleştirilen bir ankette bu çocukların kitap seçiminde ön plana çıkan niteliklerinin dağılımı aşağıdaki grafikte gösterilmiştir.



Bu bilgilerden hareketle aşağıdakilerden hangisi söylenebilir?

- A) Ankete katılan çocuklar, en çok hayvanların yer aldığı görsellerle hazırlanmış ön kapağı olan kitapları tercih etmektedir.
- B) Ankete katılan çocukların kitap tercihinde en çok ön ve arka kapağın biçimi ve içeriği etkili olmaktadır.
- C) Anket verilerine göre kitabın fiyatının pahalı olması çocukların kitap tercihinde en az etkili olan faktördür.
- D) Anket sonuçlarına göre kitabın ve yazarının reklamının çokça yapılması çocukların tercihini en çok etkileyen özelliktir.

8.

Annenden öğrendiğinle yetinme

Çocuğum, Türkçeni geliştirdi.

Dilimiz öylesine güzel ki

Durgun göllerimizce duru,

Akar sularımızca coşkulu...

Ne var ki çocuğum,

Güzellik de bakım ister.

Yukarıdaki şiire hâkim olan duygu aşağıdakilerden hangisidir?

- A) Türkçe sevdası
- B) Anne özlemi
- C) Doğa merakı
- D) Dilin zorluğu

9. Laleler, yapı itibarıyla ince bellidir. Bu düşünceye göre çay bardağı da lalelerden ilham alınarak tasarlanmıştır. Soğuk havalarda içi ısıtması için de sık sık tüketilen çay, ince belli bardak sayesinde parmak uçlarıyla üst tarafından tutulabiliyor, orta kısmı da ele temas edip yakmadan avcu sıcak tutuyordu. Aynı zamanda kavisli yapısıyla içeceğin çabuk soğumasını engelliyordu.

Buna göre aşağıdaki görsellerden hangisi anlatılan çay bardağına ait olabilir?



10. 23 Nisan Ulusal Egemenlik ve Çocuk Bayramı'nda şiir okuyacak olan Defne, Merve, Berke, Hakan ve Kemal sırasıyla kürsüye çıkıp şiirlerini okuyacaklardır. Öğrencilerin kürsüye çıktıkları sıra ile ilgili şunlar bilinmektedir:

- Berke, Defne'den bir sıra önce şiirini okumuştur.
- Hakan şiirini okuduktan hemen sonra kürsüye Merve çıkmıştır.
- Kemal, Defne'den sonra şiir okuyan biri değildir.

Bu bilgilere göre aşağıdaki sıralamalardan hangisi öğrencilerin kürsüye çıkma sırası olabilir?

	1.	2.	3.	4.	5.
A)	Berke	Defne	Kemal	Hakan	Merve
B)	Berke	Kemal	Defne	Merve	Hakan
C)	Hakan	Merve	Kemal	Berke	Defne
D)	Hakan	Merve	Berke	Defne	Kemal

11. Kişiden kişiye değişen, kanıtlanamayan, söyleyen kişinin yorumunu, duygu ve düşüncelerini içeren ifadeler öznel; kişiden kişiye değişmeyen, kanıtlanabilen, söyleyenin yorumunu ve düşüncesini içermeyen ifadeler nesnel ifadelerdir.

Bu bilgilere göre aşağıdaki cümlelerin hangisinde öznel ifadelere yer verilmiştir?

- A) Ülkemiz Kuzey Yarım Küre'de yer alır.
- B) Ülkemiz üç tarafı denizlerle çevrili bir yarımadadır.
- C) Irak ve Suriye, ülkemizin güneyinde yer alan komşulardır.
- D) Ülkemizin en güzel tatil yerleri Kapadokya ve Göller Yöresi'dir.

- 12.

I. Kişi adlarından önce ve sonra gelen saygı sözleri, unvanlar, lakaplar, meslek ve rütbe adları büyük harfle başlar.

II. Dil ve lehçe adları büyük harfle başlar.

III. Yer adları (kita, bölge, il, ilçe, mahalle, sokak vb.) büyük harfle başlar.

IV. Tarihi olay, çağ ve dönem adları büyük harfle başlar.

Yukarıda yazım kuralları ile ilgili bazı maddeler verilmiştir.

Aşağıdaki cümlelerin hangisinde yukarıda verilen maddelere uymamaktan kaynaklanan bir yazım yanlışı vardır?

- A) İki yıldır Bahçelievler Mahallesi'nde oturuyoruz.
- B) Atatürk, kurtuluş savaşını Samsun'dan başlattı.
- C) Necati Bey, bahçe işleri için saraya bir bahçıvan göndermişti.
- D) Kaşgarlı Mahmut, Türkçenin Arapçadan daha üstün olduğunu söylüyordu.

13.

Sevgili Öğrenciler,
Son hecesinde dar
ünlü (ı, i, u, ü) bulunan
kelimeler ünlüyle
başlayan bir ek aldıklarında
son hecedeki dar ünlü düşer.
Bu olaya ünlü düşmesi denilir.
Örneğin
"gönül" sözcüğüne "ü" eki getirilince
"gönlü" olur.



Yukarıda öğretmen ünlü düşmesinin tanımını ve örneğini vermiştir.

Bu bilgilere göre öğrencilerin kurmuş olduğu aşağıdaki cümlelerin hangisinde ünlü düşmesine uğrayan bir sözcük yoktur?

- A) **Ahmet:** O kadar çok çalıştım ki boynum tutuldu.
B) **Sevgi:** "...Değmesin mabedimin göğsüne namahrem eli..."
C) **Mikail:** Yapılan her işin bir hukuku ve ahlâkı olmalı.
D) **Feride:** Bu ağacın ömrünü bir tek dedem bilir.

14. Sözcüğün anlamını değiştiren eklerle yapım eki denir.

Küçük baykuşun kanatları kırmızı ve güçlü değildi. Keşke bir arkadaşı olsaydı, onunla ne çok oyun oynardı. Belki uçuşmasına yardım ederdi. Rüzgârlı bir gecede üzgün üzgün otururken bir çitirtı duyuldu. Küçük bir fareydi bu. Küçük baykuş ile farenin dostluğuna dönüşen hikâyeye o an başladı.

Altı çizili sözcüklerden biri yapım eki almamıştır.

Buna göre yapım eki almayan sözcüğe ait görsel aşağıdakilerden hangisidir?

A)



B)



C)



D)



15.

T.C. Çevre ve Şehircilik Bakanlığı, 2017 yılında sürdürülebilir kalkınma ilkeleri çerçevesinde oluşan atıkları kontrol altına almak ve gelecek nesillere daha temiz ve yaşanabilir bir dünya bırakmak adına "Sıfır Atık" projesini hayata geçirmiştir. İlk olarak bakanlığın ana hizmet binasında aşamalı olarak başlatılan proje hem bireysel hem kurumsal hem de belediye genelinde yaygınlaşmaktadır. Sıfır Atık Projesi, Çevre ve Şehircilik Bakanlığında uygulanmasının akabinde Cumhurbaşkanlığı Külliyesi'nde de hayata geçirilmiş ve 26.09.2017 tarihinde gerçekleştirilen "Sıfır Atık Projesi Tanıtım Toplantısı" ile tüm Türkiye'de uygulanmasına yönelik çalışmalar başlatılmıştır. Sıfır atık projesinin yaygınlaşması ile birlikte israfın önüne geçilerek maliyetlerin azaltılması ve verimliliğin artırılması, çevresel risklerin azaltılması, bununla beraber çevre koruma bilincinin kurum bünyesinde gelişmesine katkı sağlandığından çalışanların "duyarlı tüketicisi" duygusuna sahip olmasının sağlanması hedeflenmektedir.

Sıfır Atık Projesi ile ilgili aşağıdakilerden hangisi söylenemez?

- A) Projenin ilk adımı Çevre ve Şehircilik Bakanlığının bir bölümünde başlatılmıştır.
B) 2017 yılında tüm Türkiye'de hayata geçirilmiştir.
C) Projenin amaçlarından biri de israfın önüne geçmektir.
D) Projeye ülkenin en üst kurumlarından biri de destek vermiş ve projeyi uygulamıştır.



SOSYAL BİLGİLER

A

5. SINIF KURUMSAL DENEME SINAVI

Bu testte 10 soru vardır.
Cevaplarınızı, cevap kağıdına işaretleyiniz.

1.



Merhaba ben Aslı. Çevremdeki insanlar bana farklı şekillerde hitap ediyor. Bana babam, babaannem, kardeşim, iş arkadaşlarım farklı ifadelerle sesleniyor. İşten dönerken kızımı ve oğlumu okuldan alıyorum. Eve dönünce temizlik ve yemek yapmak, sofrayı hazırlamak gibi görevlerimi yerine getiriyorum. Sofrada, eşimle ve çocuklarımla günün değerlendirmesini yapıyorum. Çocuklarımların ödevlerine yardımcı oluyorum. Sabah çok erken kalkıp işe gittiğim için akşamları erken yatmam gerekiyor. Bazı akşamlar işlerimin yoğunluğu nedeni ile geç yatıyor, sabah erken kalkamadığım için işime geç kalıyorum.

Bu bilgilere bakılarak Aslı Hanım hakkında;

- I. Farklı gruplar içinde yer almış ve bu gruplarda farklı rollere bürünmüştür.
- II. Erken kalkıp işine zamanında gitme sorumluluklarını yerine getirememiştir.
- III. Anne, abla, torun, teyze, hala, mesai arkadaşı rollerine sahip olmuştur.

çıkartımlarının hangileri yapılabilir?

- A) I ve II B) I ve III C) II ve III D) I, II ve III

2.

Hititler, Kuzey Suriye topraklarına hâkim olmak için dönemin güçlü devletlerinden olan Mısır Uygarlığıyla mücadele etmişlerdir. Mısırlılarla Hititler arasında yıllarca süren savaş sonucunda Kadeş Antlaşması imzalanmıştır (MÖ. 1280). Kadeş Antlaşması, insanlık tarihinin ilk yazılı antlaşması olarak bilinir.

Yukarıdaki metinde verilen "Mısırlılarla Hititler arasında Kadeş Antlaşması imzalanmıştır." ifadesi hangi alanda yaşanan bir gelişmeye örnek olarak kabul edilebilir?

- A) Ekonomik B) Diplomatik C) Askeri D) Kültürel

3.



Yukarıda haritaya bakıldığında;

- I. Türkiye, çok çeşitli doğal güzelliklerin bulunduğu bir ülkedir.
- II. Tarihi ve doğal varlıklar ülkemizin birçok bölgesine dağılmış durumdadır.
- III. Türkiye, doğal güzelliklerimizin yanında tarihî eserler yönünden de oldukça zengin bir mirasa sahiptir.

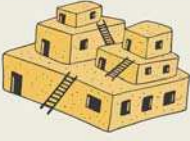
bilgilerinin hangilerinin doğru olduğu kabul edilebilir?

- A) I ve II B) I ve III C) II ve III D) I, II ve III



6

4.



1

Bu iklimin görüldüğü yerlerde evler genellikle kerpiçten yapılır. Bu malzemeler hava sıcakken evin serin, soğukken sıcak olmasını sağlar.



2

Bu iklimin görüldüğü yerlerde bitki örtüsü genellikle ormandır. Bu nedenle özellikle kırsal kesimdeki evlerin yapı malzemesi ahşaptır.



3

Bu iklimin görüldüğü yerlerde daha çok taş evler görülür. Kışın havalar soğuk olmadığından ısınma önemli bir problem değildir. Yazın ise taş evlerin içi serin olur.

Yukarıdaki metinde yapı malzemelerinin özellikleri ile iklim tiplerinin eşleştirilmesi hangi seçenekte doğru olarak eşleştirilmiştir?

- | | | | |
|---|---|---|---|
| A) 1. Akdeniz İklimi
2. Karadeniz İklimi
3. Karasal İklim | B) 1. Karasal İklim
2. Akdeniz İklimi
3. Karadeniz İklimi | C) 1. Karasal İklim
2. Karadeniz İklimi
3. Akdeniz İklimi | D) 1. Karadeniz İklimi
2. Akdeniz İklimi
3. Karasal İklim |
|---|---|---|---|

5.



Benim yaşadığım Güneydoğu Anadolu Bölgesinde yaz ayları sıcak ve kurak geçer. Bu nedenle bu klime uyum sağlayan kırmızı mercimek, buğday, Antep fıstığı üretimi buralarda yaygındır.



Benim yaşadığım Karadeniz kıyıları her mevsim yağış alan bir klime sahiptir. Bu nedenle Doğu Karadeniz kıyılarında yağış ve reme fazla ihtiyaç duyan çay, fındık ve mısır üretimi yaygındır.



Benim yaşadığım Akdeniz Bölgesinin, kıyı ovalarında yazlar sıcak ve kurak, kışlar ise ılık ve yağışlıdır. Bu çevrelerde zeytin, turuncgil ve muz üretimi yapılır.

Yukarıdaki görsellerde yer alan bilgilere bakıldığında;

- I. Ülkemizde tarım ürünlerinin yetiştirme koşulları ve özellikleri farklılık göstermektedir.
- II. Türkiye'deki iklim çeşitliliği tarımsal ürünlerin çeşitliliğini de artırmaktadır.
- III. Ülkemizin tüm kıyı kesimlerinde yetiştirilen tarımsal ürünler benzerlik göstermektedir.

sonuçlarının hangilerine ulaşılabilir?

- | | | | |
|------------|-------------|--------------|-----------------|
| A) I ve II | B) I ve III | C) II ve III | D) I, II ve III |
|------------|-------------|--------------|-----------------|

6. Heyelan, yağışın fazla olduğu yerlerde, dik yamaçlardan aşağıya doğru toprak örtüsünün kaymasıdır. Heyelan olayı, Karadeniz Bölgesi'nde sıkça meydana gelmektedir. **Bunun nedeni bölgedeki ...**

Yukarıdaki metnin hangi seçenekteki bilgiler ile devam etmesi beklenir?

- A) iklimin karasallığına bağlı olarak kar yağışının fazla olmasıdır.
- B) eğimin ve ortalama yağış miktarının çok fazla olmasıdır.
- C) orman örtüsünün diğer bölgelere göre oldukça zayıf kalmasıdır.
- D) yükseltinin az olmasına rağmen yağış miktarının oldukça yüksek olmasıdır.

7. (I)Günümüzde genel ağ sayesinde bilgiye ulaşmak oldukça kolaylaşmış, ancak bu durum karşımıza bilgilerin güvenilirliği sorununu ortaya çıkarmıştır. (II)Genel ağda ulaştığımız bilgilerin önemli bir kısmı kontrolden geçmiş olmadığı için karşımıza çıkan bilgilerin tamamını doğru ve güvenilir kabul edemeyiz. (III)Genel ağ üzerinden ulaştığımız bilgileri değerlendirmek, bunların doğruluğunu ve güvenilirliğini sorgulamak bizim sorumluluğumuzdadır. (IV)Eğer güvenli olduğuna inanıyorsa bir tek internet sitesinden alınan bilgiyle yetinilmeli, elde edilen bilgi, farklı internet sitelerindeki bilgilerle, kitap, ansiklopedi gibi kaynaklarla ve uzman görüşleri ile karşılaştırmaya gerek duymamalıyız.

Yukarıdaki metinde hangi rakam ile gösterilen bilginin doğru olduğu söylenemez?

- A) I B) II C) III D) IV

8. **AZİZ SANCAR KİMDİR?** 1946'da Mardin'in Savur ilçesinde dünyaya geldi. 1963 yılında girdiği İstanbul Üniversitesi Tıp Fakültesinden 1969 yılında birincilikle mezun oldu. TÜBİTAK bursuyla gittiği Amerika'da biyokimya eğitimi alan Sancar, ülkemize dönüp bir süre hekimlik yaptı. Sonra, Amerika'ya tekrar dönerek çeşitli üniversitelerde çalışmaya devam etti. Karşısına çıkan tüm engelleri aşma konusunda büyük bir mücadele örneği sergiledi. Onun için biliminde başarılı olmanın yolu çok çalışmak ve çok okumaktan geçiyordu. Hayatının önemli bir kısmını laboratuvarlarda geçirdi. Araştırma ve gözlem yapmayı çok seven, eleştiriye açık, planlı ve objektif kişiliğini her fırsatta sergiledi. Sancar, başarılı bir bilim insanında üç temel özelliğin bulunması gerektiğini söyledi; Bilgiye dayalı yaratıcılık, sıkı çalışmak ve başarısızlık karşısında asla pes etmemek. Aziz Sancar, DNA onarım mekanizmaları konusunda yaptığı buluş sayesinde 2015 Nobel Kimya Ödülü'ne layık görüldü.

(Genel ağdan alınmıştır. 12.02.2018)

Yukarıdaki metinde verilen bilgilere bakıldığında Aziz Sancar hakkında hangi seçenekteki yargıya ulaşılamaz?

- A) Olaylara tarafsız bir açıdan bakabilen kişiliğe sahip olduğu görülmüştür.
B) Sabırlı şekilde çalışmalarını sürdüren bir insanın hedefine mutlaka ulaşacağını, çok önemli bir bilimsel ödül almaya hak kazanarak göstermiştir.
C) Karşılaştığı tüm zorluklara rağmen kararlılıkla mücadelesine devam etmiştir.
D) Yaptığı çalışmalar sonucu elde ettiği bilgilerin tartışılmasına izin vermemiştir.

9. Murat Bey, evin temel ihtiyaçlarını karşılamak için her ay alışverişe çıkmaktadır. Alışverişe çıkmadan, öncelik sırasına dikkat ederek ihtiyaç listesini hazırlamaktadır. Murat Bey bu ay yapacağı alışverişe oğlu Hakan'ı da götürür. Ellerindeki listede yazılı ürünlerin olduğu reyonlara giden ikili dolaptan aldıkları beyaz peyniri incelemeyen alışveriş arabasına koyarlar. Daha sonra gittikleri manav reyonunda taze olmasına dikkat ederek sebze ve meyve alırlar. Oyuncakların olduğu bölüme gelince Hakan ısrarla babasından bir oyuncak ister. Murat Bey oyuncakların zorunlu bir ihtiyaç olmadığı için listede yer almadığını ve evde buna benzer birçok oyuncakının bulunduğunu belirterek oyuncak almamayı istemez. Ama oğlunun ısrarlarına daha fazla dayanamayarak oyuncakı satın alır. Konservelerin olduğu bölümden salça ve bezelye alan Murat Bey, paketlerin ezik ve zarar görmemiş olmalarına dikkat eder. Bu ayki aile bütçesinden market harcamaları için 400 lira ayıran Murat Bey, kasada 500 lira ödeyerek marketten ayrılır.

Bu bilgilere bakıldığında Murat Bey ve oğlu Hakan'ın alışveriş konusundaki hangi davranışları bilinçli bir tüketicinin yapması gerekenlere örnek olarak gösterilebilir?

- A) Paketli ve ambalajı ürünleri satın alırken son kullanma tarihlerine dikkat etmemişlerdir.
B) Alışverişe başlamadan önce ihtiyaç listesini oluşturmuşlardır.
C) İhtiyaç olmamasına rağmen bir ürün satın alarak alışveriş listesinin dışına çıkmışlardır.
D) Aile bütçesi ile market harcamalarının dengeli olmasını sağlayamamışlardır.

10. Bir insanın doğuştan sahip olduğu ve insanca yaşayabilmesi için gerekli olan haklara temel hak denir. Temel haklar devlet tarafından anayasa ile korunma altına alınmıştır. Devlet kişilerin çeşitli alanlardaki haklarını kullanabilmeleri için birçok kurum açmıştır. Devletimiz, okul yaparak1....., hastane inşa ederek2....., polis ve jandarma birimleri oluşturarak3....., hâkim ve savcı ataması yaparak ise4..... alanındaki haklarının kullanılabilmesine ve korunmasına yardımcı olur.

Bu bilgilerde boş bırakılan yerlere yazılması gerekenler hangi seçenekte doğru olarak verilmiştir?

	1	2	3	4
A)	Eğitim	Sağlık	Adalet	Güvenlik
B)	Adalet	Eğitim	Sağlık	Güvenlik
C)	Eğitim	Sağlık	Güvenlik	Adalet
D)	Güvenlik	Sağlık	Adalet	Eğitim



DİN KÜLTÜRÜ VE AHLAK BİLGİSİ

5. SINIF KURUMSAL DENEME SINAVI

A

Bu testte 10 soru vardır.
Cevaplarınızı, cevap kağıdına işaretleyiniz.

1.



Evrendeki olayları incelediğimizde bunların belirli bir sistem içerisinde meydana geldiklerini görürüz. Suyun yüz derecede kaynaması, zararlı maddelerin toprak tarafından imha edilerek doğanın temizlenmesi, yağmur ve karın yağışı, rüzgârların esmesi bize evrende bir mükemmelliğin var olduğunu gösterir. Aynı zamanda bu olayların kendi başına gerçekleşemeyeceğini, bunları yaratan yüce bir varlığın olduğunu anlarız. O varlık da Allah'tır.

Aşağıdaki ayetlerden hangisi yaratmanın "Allah" tarafından olduğunu belirtmektedir?

A) İşte bunların karşılığı, Rablerinden başışlanma ve içinde ebedi kalacakları, altından ırmaklar akan cennetlerdir. (Böyle) Yapanlar için ne güzel bir karşılık (ecir var).

(Al-i İmran Suresi, 136. ayet)

B) De ki: "Cibril'e kim düşman ise, (bilsin ki) gerçekten onu (Kitabı), Allah'ın izniyle kendinden öncekileri doğrulayıcı ve müminler için hidayet ve müjde verici olarak senin kalbine indiren O'dur.

(Bakara Suresi, 97. ayet)

C) Gerçek şu ki, Biz onlara melekler indirseydik, onlara ölümler konuşsaydı ve her şeyi karşılına toplasaydık, -Allah'ın dilemediği dışında- yine onlar inanmayacaklardı. Ancak onların çoğu cahillik ediyorlar.

(En'am Suresi, 111. ayet)

D) O, gökleri ve yeri örnekleri yokken yaratandır. O'nun bir eşi olmadığı halde nasıl bir çocuğu olabilir? Hâlbuki her şeyi O yarattı. O her şeyi hakkıyla bilendir.

(En'am, 101. ayet)

2. "De ki: O, Allah'tır. Allah Samed'dir. O, doğurmamış ve doğmamıştır. Onun hiçbir dengi yoktur."

(İhlâs suresi, 1-4. ayetler.)

Yukarıdaki ayetten;

- I. Allah'ın tek olduğu
- II. Allah'ın "Samed" olduğu
- III. Allah'ın "Âlim" olduğu
- IV. Allah'ın denginin olmadığı

yargılarından hangisine ulaşılamaz?

- A) I B) II C) III D) IV

3. "Ey iman edenler! Oruç sizden önce gelip geçmiş ümmetlere farz kılındığı gibi size de farz kılındı. Umulur ki korunursunuz." (Bakara suresi, 183. ayet)

Yukarıdaki ayetten;

- I. Oruç ibadetinin farz olduğu
- II. Orucun önceki toplumlara da farz olduğu
- III. Oruç emrinin Kur'an'da geçtiği

İfadelerinden hangisine ya da hangilerine ulaşılr?

- A) Sadece I B) II ve III
C) I, II ve III D) Sadece III

4. I. Hırka-i Şerif, İstanbul'daki Hırka-i Şerif Camii'nde korunmaktadır.
II. Ramazan ayında her yıl Hırka-i Şerif ziyaretleri yapılmaktadır.
III. Hırka-i Şerif, Hz. Muhammed'den (s.a.v.) bize kalan bir emanettir.

Yukarıdaki maddelerin hangisinde ya da hangilerinde bilgi yanlışlığı yapılmıştır?

- A) Sadece I B) II - III
C) Sadece III D) Bilgi yanlışlığı yoktur.

5.

"Hayırlınız, ahlâkı güzel olanınızdır."

(Buhârî, Menâkıb 23)

"İnsanları cennete en fazla götürecek şey nedir?" diye soruldu. Hz. Muhammed: "Allah'a saygı (takvâ) ve güzel ahlâktır" buyurdu.

(Buhârî, Menâkıb 23)

Nevvâs İbni Sem'ân (r.a) şöyle dedi: Hz. Muhammed'e iyilik ve kötülüğün ne olduğunu sordum. Buyurdu ki: "İyilik güzel ahlâktan ibarettir."

(Müslim, Bîr 14)

Yukarıdaki üç hadisin ortak vurgusu aşağıdaki değerlerden hangisidir?

- A) Sabır B) Şükür
C) Güzel ahlâk D) Yardım

6. Bireyin yaşamını sürdürebilmesi için gerekli olan öğelerden birisi de yeme ve içmedir. İslâmiyet'in, yeme ve içme konusunda ortaya koyduğu en temel ilke yenilen ve içilen gıdaların temiz ve helal olmasıdır. Bu sebeple kumar, rüşvet, hile gibi yöntemler sonucunda kişinin kazanç sağlamasını ve bu yollardan beslenmesini yasaklamıştır.

Aşağıdaki ayet ya da hadislerden hangisi yukarıdaki metnin mesajlarını desteklemektedir?

- A) "Yediklerinin helal olmasına dikkat et ki böylelikle duaların kabul olsun."
(*Taberânî, Mu'cemül-Evsat, C 6, s. 310.*)
- B) Müslümanlara eza vermeyin, onları kınamayın, kusurlarını araştırmayın. Zira kim, Müslüman kardeşinin kusurunu araştırırsa Allah da onun kusurunu araştırır..."
(*Tirmizî, Birt, 85*)
- C) Ey iman edenler! Kendi evlerinizden başka evlere, geldiğinizde fark ettirip ev halkına selam vermeden içeri girmeyin. Bu sizin için daha iyidir. Herhalde düşünüp anlarsınız."
(*Nur suresi, 27. ayet.*)
- D) Küçümseyerek insanlardan yüz çevirme ve yeryüzünde böbürlenerek yürüme. Zira Allah, kendini beğenmiş övünüp duran kimseleri asla sevmez. Yürüyüşünde tabii ol, sesini alçalt..." (*Lokman suresi, 18-19.ayetler*)

7.



Andolsun ki vaktiyle Lokmân'a şu hikmeti vermiştik: "Allah'a şükret, O'na şükreden kendi iyiliği için şükretmiş olur; nankörlük eden de bilmelidir ki Allah'ın hiçbir şeye ihtiyacı yoktur, O her türlü övgüye lâyıktır."

Lokmân oğluna öğüt verirken ona şöyle dedi: "Sevgili oğlum! Allah'a ortak koşma çünkü O'na ortak koşmak kesinlikle çok büyük bir haksızlıktır."

(*Lokman suresi 12. ve 13. ayetler*)

Yukarıdaki ayetlerden aşağıdaki yargılardan hangisi çıkarılamaz?

- A) Allah'ın nimetlerine şükretmek gerekir.
B) Adaletten ayrılmamak gerekir.
C) Allah, hiçbir şeye muhtaç değildir.
D) Allah'a ortak koşmak yasaklanmıştır.

8. Hz. Muhammed (s.a.v.) güzel ahlaklı, dürüst ve çalışkan birisidir. O herkes tarafından sevilen ve saygı duyulan bir kimsedir. Bu sebeple herkes O'nunla ticaret işini seve seve yapardı. O'nun ticaretteki güvenilirliğini öğrenen Hz. Hatice Hz. Muhammed'e (s.a.v.) ticaret yapma teklifinde bulunmuştur. Hz. Muhammed (s.a.v.) de bu teklifi kabul etmiştir.

Aşağıdaki sorulardan hangisinin cevabı yukarıdaki paragrafta bulunmamaktadır?

- A) Hz. Muhammed'in eşinin ismi nedir?
B) Hz. Muhammed'in (s.a.v.) güzel ahlakından bazı örnekler nelerdir?
C) Hz. Muhammed'e ticaret yapma teklifinde bulunan kadın sahabe kimdir?
D) Hz. Muhammed hangi iş ile uğraşmıştır?

9. Hz. Muhammed'in (s.a.v.) aile ilişkileri konusunda araştırma yapan Oğuz;

- I. Her işte olduğu gibi aile ilişkilerinde de çok duyarlıydı.
II. Aile bireylerine her zaman sevgi ve saygı ile yaklaşırdı.
III. Eşi ile olan ilişkilerinde çok nazik ve kibar.
IV. Önemli konularda aile bireylerinin görüşlerini almayı ihmâl etmezdi.

bilgilerinden hangisini ya da hangilerini araştırmasında kullanması doğru olur?

- A) I, II ve III
B) II ve III
C) Sadece IV
D) Hepsi

10. "Yediklerinizden onlara (eşlerinize) da yedirin, giydiklerinizden onlara da giydirin, onları dövmeyin ve kötölemeyin."
(*Ebu Davud, Nikâh, 40-41.*)

Yukarıdaki hadis baz alınarak "Hz. Muhammed ve eşine karşı davranışları" konusunda aşağıdakilerden hangisi söylenemez?

- A) Hz. Muhammed eşlerine karşı nazik davranmıştır.
B) Hz. Muhammed eşlerine karşı duyarsız kalmıştır.
C) Hz. Muhammed eşlerine karşı kaba ve sert olmamıştır.
D) Hz. Muhammed eşlerine iyi muamele göstermiştir.



İNGİLİZCE









A

5. SINIF KURUMSAL DENEME SINAVI

Bu testte 10 soru vardır.
Cevaplarınızı, cevap kağıdına işaretleyiniz.

1. **Alex:** I'm a twelve-year old student from England. I study at Wimbledon Secondary School. Science is my favourite class. I enjoy doing experiments. I don't like history because it's really boring.

Aşağıdaki görsellerden hangisi metin içerisinde verilen bir durumu destekler?

- A)  
- B)  
- C)  
- D)  

2.























- Sally** : The pharmacy is behind the library.
Brad : The bakery is between the library and pharmacy.
Nancy : The bakery is in front of the library.
Robin : The pharmacy is opposite the bakery.

Yukarıda verilen görseli hangi kişi doğru şekilde yorumlamıştır?

- A) Sally B) Brad C) Nancy D) Robin

3.

Activities	Zoe	Sid	Rose	Cliff
				
				
				
				

Verilen tabloya göre aşağıdaki cümlelerden hangisi Rose adlı kişiye ait olabilir?

- A) I can't play checkers, but I can do puzzles.
B) I like playing table tennis, but I hate riding a horse.
C) I can play table tennis, but I can't play checkers.
D) I like doing puzzles, but I don't like riding a horse.

NARTEST

4.

North

I study at Green Way Secondary School. I wake up at quarter past seven every weekday. I have breakfast and brush my teeth. Then I leave home. I go to school

by school bus. I finish school at twenty past four and go to the chess club. I do my homework before dinner. Dinner is always at quarter to eight. I watch television for an hour and go to bed at half past nine.

Aşağıdaki saat dilimlerinin hangisinden metin içerisinde bahsedilmemiştir?

A)



B)



C)



D)



5.

I. **April** : I have a pain in my stomach.

Fred : You should see a doctor.

II. **David** : I have a toothache.

Bernice : You should go to the dentist.

III. **Kevin** : I have a sore throat.

Mark : You should carry heavy things.

IV. **Jane** : I have the measles.

Samuel : You should take your medicine.

Verilen karşılıklı konuşmalarda hangi kişi yanlış tavsiye vermiştir?

A) Fred

B) Bernice

C) Mark

D) Samuel

6.

**Nina**

I like animations and science fiction movies. They are fantastic. I don't like horror movies because they are frightening. Garfield is my favourite animation. Garfield is a lazy and funny character in the movie. He likes eating and sleeping.

Hangi sorunun cevabı metin içerisinde verilmemiştir?

A) What does Nina think about animations?

B) Why does Nina prefer horror movies?

C) What is Garfield like?

D) What type of movie is Garfield?

7.



Emily : When is your birthday, Mark?

Mark : It's on 4th November. When is your birthday?

Emily : It's on 13th April.

Mark : You mean tomorrow.

Emily : Yes, that's true. Do you want to join the party?

Mark : Of course. Happy birthday, Emily. I must buy you a present.

Emily : Thank you very much. That's very kind of you.

Verilen karşılıklı konuşmaya göre aşağıdakilerden hangisi söylenebilir?

A) Emily's birthday is in the month after March.

B) Mark's birthday is in the month before September.

C) Mark mustn't join Emily's birthday party.

D) Mark doesn't want to join Emily's birthday party.

8. I. **Linda** : Can I have a clown at my birthday party?

Father : _____.

II. **Frederic**: Welcome to my birthday party.

Matilda : _____ . This is a great party.

III. **Vicky** : I must go home now. See you later.

Daniel : See you, Vicky. _____ .

Aşağıdaki seçeneklerden hangisi boş bırakılan yerlerden hiçbiri için uygun değildir?

- A) Take care B) Thank you
C) Yes, of course D) You're welcome

10. **Sandy** : Can you ride a horse, Ruby?

Ruby : No, I can't. I'm good at skiing. It's my favourite activity. I also like ice skating.

Sandy: I think ice skating is difficult. I'm good at playing board games. Chess is my favourite.

Aşağıdaki görsellerden hangisi Sandy adlı kişinin sevdiği bir aktiviteyi göstermektedir?



9.



Andrew: Let's go camping next weekend!

Jack : I'm sorry, but I don't like camping. It's boring.

Andrew: What about _____?

Jack : Sure. It's very exciting.

Verilen görsele göre boş bırakılan yer için hangi seçenek uygundur?

- A) jogging B) climbing
C) skating D) trekking

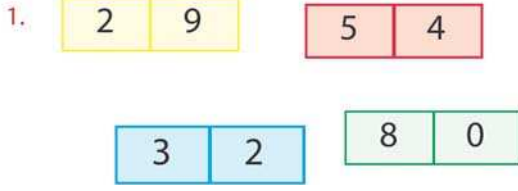


MATEMATİK

5. SINIF KURUMSAL DENEME SINAVI

A

Bu testte 15 soru vardır.
Cevaplarınızı, cevap kağıdına işaretleyiniz.



Ece, yukarıda verilen dört karttan üç tanesini yan yana getirerek elde edebileceği altı basamaklı en büyük sayıyı elde etmiştir.

Buna göre Ece hangi kartı kullanmamıştır?

- A)

3	2
---	---

 B)

2	9
---	---
- C)

8	0
---	---

 D)

5	4
---	---

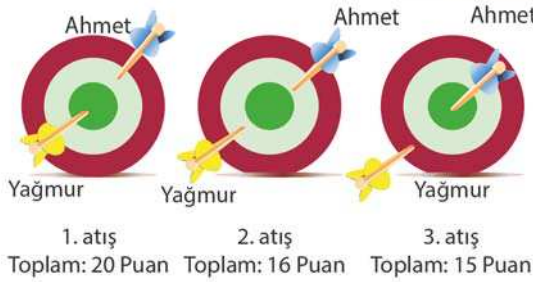


Yukarıda ilk dört adımı verilen örüntünün 10. adımında bulunan yıldız sayısının 5 ile bölümden kalan kaçtır?

- A) 0 B) 1 C) 2 D) 3

2. Yağmur sarı renkli ve Ahmet mavi renkli oklarını sırayla atarak üç atışlık bir dart oyunu oynuyorlar.

I., II. ve III. atışlarında kimin okunun hangi bölgeye saplandığı ve toplam kaç puan aldıkları aşağıdaki şekillerde gösterilmiştir.



Buna göre, Ahmet'in toplam puanı Yağmur'un toplam puanından kaç fazladır?

- A) 3 B) 4 C) 5 D) 6

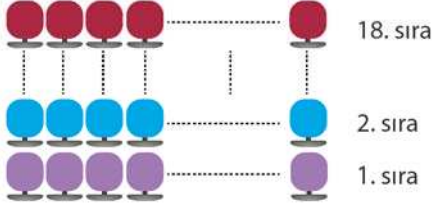


Mert, Can ve Buket bir ailenin üç çocuğudur. Mert ile Can beraber tartıldıklarında kütleleri toplamı 7² kg, Can ile Buket beraber tartıldıklarında kütleleri toplamı 3³ kg'dır.

Buna göre, Mert'in kütlesi Buket'in kütlesinden kaç kg fazladır?

- A) 9 B) 11 C) 18 D) 22

5. Bir sinema salonunda 18 sıra, her bir sırada yan yana 24 koltuk vardır. Bu salonda bir filmin, gün içinde beş farklı gösterimi aşağıdaki gibidir.

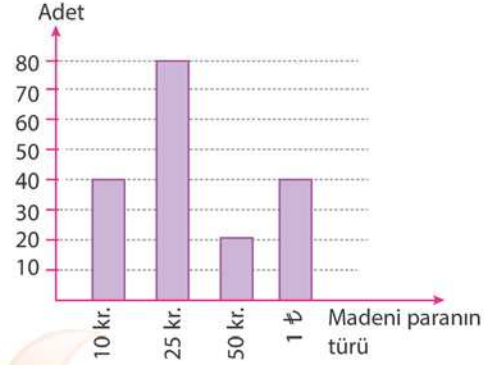


1. Gösterim : 10.30
2. Gösterim : 13.00
3. Gösterim : 16.00
4. Gösterim : 18.30
5. Gösterim : 21.00

Buna göre, bu salonda bir günde bu filmi en çok kaç kişi izlemiş olabilir?

- A) 1728 B) 1960 C) 2060 D) 2160

7. **Grafik:** Ekrem'in kumbarasında bulunan madeni paraların türü ve adedi.



Yukarıda verilen grafik, Ekrem'in kumbarasındaki 10, 25, 50 kr. ve 1 ₺ madeni paraların türlerine göre adetlerini göstermektedir.

Buna göre, Ekrem'in kumbarasında toplam kaç ₺ parası vardır?

- A) 44 B) 66 C) 74 D) 82

NAR TEST

- 6.



Arda, bir mağazadan yukarıda fiyatları yazılı olan bir futbol topu, bir tişört ve bir kulaklık almıştır.

Arda ödeme yaparken kasaya 100₺ verdiği göre para üstü olarak kaç ₺ geri almıştır?

- A) 22,35 B) 23,65 C) 24,35 D) 33,65

- 8.



Tarik okumakta olduğu 420 sayfalık bir kitabın $\frac{1}{3}$ 'ünü her gün 14 sayfa okuyarak kalan kısmını da her gün 40 sayfa okuyarak bitiriyor.

Buna göre, Tarık bu kitabı kaç günde okuyup bitirmiştir?

- A) 10 B) 14 C) 17 D) 20

9.

Başlangıç
Noktası

A	Burak ↓	△	↖	↗	↓	↘
B	↖	↖	↖	↖	↓	↖
C	↖	↖	△	↓	↖	△
D	↓	↖	↖	↖	↖	↓
E	△	↓	△	↓	↓	↓
F	↓	△	↓	↓	△	↓
	1	2	3	4	5	6

Yukarıdaki şekil, Burak'ın bulunduğu kareden aşağıdaki 1, 2, 3, 4, 5 ve 6 numaralı çıkışlara ulaşma krokisidir.

Krokide satırlar yukarıdan aşağıya doğru A, B, C, D, E ve F şeklinde isimlendirilirken, sütunlar soldan sağa doğru 1, 2, 3, 4, 5 ve 6 şeklinde isimlendirilmiştir.

Kroki üzerindeki işaretler gidilebilecek yönleri göstermektedir.

- ↓ Burak bulunduğu yerden sadece aşağı gidebilir.
- ↖ Burak bulunduğu yerden sağa veya aşağı gidebilir.
- ↖ Burak bulunduğu yerden sola veya aşağı gidebilir.
- ↖ Burak bulunduğu yerden sola veya yukarı gidebilir.
- △ Burak bulunduğu kareden başka bir kareye gidemez ve çıkış yapamaz.

Buna göre, başlangıç noktasından hareket eden Burak verilen 1, 3, 4 ve 6 numaralı çıkışlardan hangisinden çıkar?

- A) 1 B) 3 C) 4 D) 6

10.

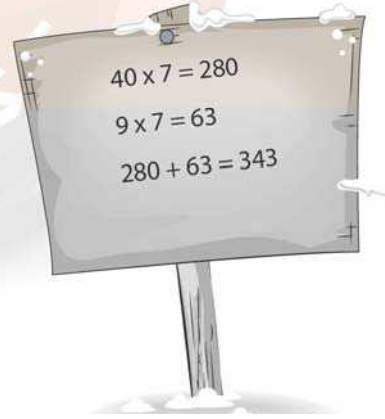


Yukarıdaki verilen sayı doğrusunda B noktasına karşılık gelen kesir $\frac{3}{4}$ tür.

Buna göre, aşağıdakilerden hangisi A noktasına karşılık gelen bir kesir olabilir?

- A) $\frac{7}{8}$ B) $\frac{5}{6}$ C) $\frac{5}{8}$ D) $\frac{11}{12}$

11.

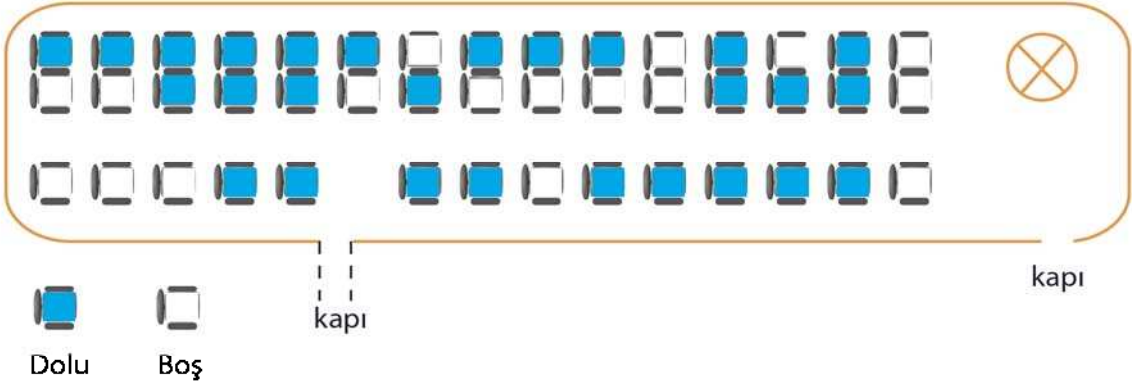


Meltem iki sayının çarpımını bulmak için yukarıda tabloda gösterilen yöntemi kullanmıştır.

Buna göre, Meltem'in yapmak istediği işlem aşağıdakilerden hangisidir?

- A) 47×9 B) 49×7
C) 49×14 D) 20×18

12.



Yukarıda verilen 44 kişilik bir otobüsün bazı koltukları doludur. Dolu ve boş koltuklar şekilde gösterilmiştir.

Buna göre, bu otobüse kaç yolcu daha binerse otobüsün doluluk oranı % 75 olur?

A) 6

B) 7

C) 8

D) 9

13. Hakan, hayvanat bahçesinde bazı hayvanların kütlelerini not etmiştir.

Hayvan	Kütlesi (kg)
Fil	6374
Zürafa	2144
Aslan	976
Keçi	124
Maymun	76

Daha sonra bunlardan kütlesi 1 tonun üzerinde olanları en yakın yüzlüğe, kütlesi 1 tonun altında olanları en yakın onluğa yuvarlayarak topluyor.

Buna göre, Hakan'ın bulduğu toplam kütle aşağıdakilerden hangisidir? (1 ton = 1 000 kg dir.)

A) 9640

B) 9660

C) 9680

D) 1080

14.




Bir bakkal 78 kg kuru fasulyeyi 936 ₺'ye almış ve aldığı bu kuru fasulyeyi 3 kg'lık torbalara paketleyerek, paketlerin tanesini 40 ₺'den satmıştır.

Paketlerin tamamını satan bu bakkal, kuru fasulyeden kaç ₺ kâr etmiştir?

- A) 96 B) 104 C) 124 D) 136

15. **Bilgi:** Kenar uzunlukları a ve b olan dikdörtgenin alanı $a \times b$ dir.



80 cm



Burcu, odasındaki uzun kenarı 80 cm, kısa kenarı 50 cm olan dikdörtgen şeklindeki panosuna uzunluğu 15 cm ve eni 8 cm olan birbirine eş dikdörtgen şeklindeki altı resmi yapıştırıyor.

Buna göre, resimlerin kapladığı alan panonun alanının yüzde kaçdır?

- A) 15 B) 18 C) 20 D) 24



FEN BİLİMLERİ

5. SINIF KURUMSAL DENEME SINAVI

A

Bu testte 15 soru vardır.
Cevaplarınızı, cevap kağıdına işaretleyiniz.

1. Zeynep, akşam vakti gökyüzünü gözlemlerken Ay'ın görüntüsü dikkatini çekiyor ve Ay'ın aşağıdaki gibi bir fotoğrafını çekiyor.



Zeynep'in ilk gözlemi

Daha sonra bir ay süreyle her hafta Ay'ın fotoğrafını çekerek, Ay'ın evreleriyle ilgili bir poster hazırlıyor.

Buna göre, Zeynep'in ilk gözleminden sonra çektiği ilk fotoğrafta, Ay aşağıdaki evrelerden hangisindeki gibi görünebilir?

A)



B)



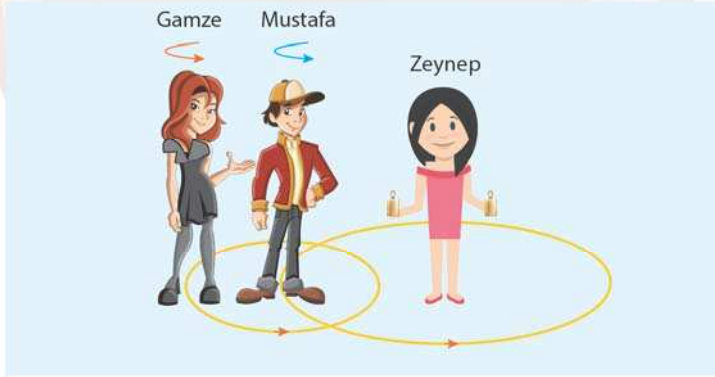
C)



D)



2. Güneş, Dünya ve Ay'ın birbirlerine göre hareketini temsil etmek için Mustafa, Gamze ve Zeynep aşağıdaki gibi dizilmiştir.



Zeynep: Elinde yanan mumlarla, çizdiği dairenin tam ortasında sabit olarak bekliyor.

Mustafa: Kendi etrafında dönme, Zeynep etrafında dolanma hareketi yapıyor.

Gamze: Kendi etrafında dönme, Mustafa etrafında dolanma hareketi yapıyor.

Zeynep Güneş'i, Mustafa Dünya'yı, Gamze ise Ay'ı temsil ettiğine göre; aşağıdaki değişikliklerden hangisini yaparlarsa hatasız bir etkinlik yapmış olurlar?

- A) Zeynep ve Mustafa karşılıklı olarak yer değiştirmelidir.
B) Mustafa dolanma hareketini tam tersi yönde yapmalıdır.
C) Zeynep de kendi etrafında dönme hareketi yapmalıdır.
D) Gamze dönme hareketini tam tersi yönde yapmalıdır.

3. Aylin, içinde kaynamakta olan su bulunan tencerenin üzerine soğuk bir tencere kapağı tutuyor ve tencere kapağında minik su damlacıkları oluştuğunu görüyor.



Aşağıdaki olaylardan hangisi, Aylin'in tencere kapağında gözlemlediği hâl değişimi ile benzerlik gösterir?

- A) Elimizdeki kolonyanın bir süre sonra kaybolması.
B) Kış aylarında pencere camlarının buğulanması.
C) Balkona asılan çamaşırların kuruması.
D) Tavada ısıtılan tereyağının sıvı hâle geçmesi.

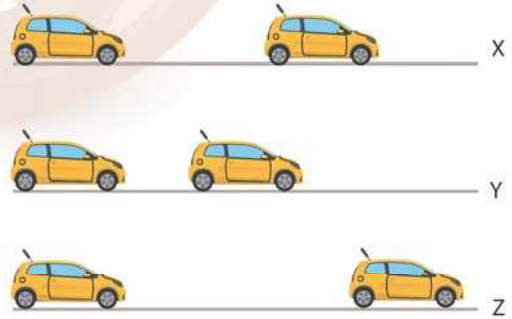
5. Ahmet, duvara sabitlediği eşit bölmeli dinamometreye Şekil-1 ve Şekil-2' de farklı büyüklükte kuvvetler uyguluyor.



Ahmet, dinamometreye 60 N değerinde kuvvet uyguladığında dinamometrenin yayı Şekil-1' deki kadar uzadığına göre, Şekil-2' de uyguladığı kuvvetin değeri kaç N' dur?

- A) 70 B) 80 C) 90 D) 100

6. Mert, üç özdeş çek bırak arabayı farklı ortamlarda eşit miktarda kurarak, aynı hizada serbest bırakıyor.



Arabaların son konumu şekildeki gibi olduğuna göre, yüzey sürtünmelerinin büyükten küçüğe doğru sıralaması aşağıdakilerden hangisi gibi olur?

- A) $Y > X > Z$ B) $Y > Z > X$
C) $Z > X > Y$ D) $Y > X = Z$

4. Meliha, bir kap içerisine koyduğu saf sıvıyı ısıtıcı yardımıyla ısıtıyor ve her 2 dakikada bir sıvının sıcaklığını ölçerek tabloya kaydediyor.

Zaman (dk)	0	2	4	6	8	10
Sıcaklık (°C)	20	29	38	47	56	56

Tabloya göre bu sıvının kaynama noktası aşağıdakilerden hangisi olabilir?

- A) 29 B) 38 C) 47 D) 56

7. Mustafa, başlangıçta Şekil-1' deki gibi olan balona bazı işlemler uyguluyor. Bu işlemler sonunda balon önce Şekil-2, daha sonra da Şekil-3' teki görünümünü alıyor.



Buna göre, Mustafa'nın yaptığı işlemler sırasıyla aşağıdakilerden hangisindeki gibi olabilir?

- A) Balonu önce yanan kalorifer üzerine, daha sonra sıcak suyun içerisine koymuştur.
B) Balonu önce soğuk balkona, daha sonra sıcak suyun içerisine koymuştur.
C) Balonu önce yanan kalorifer üzerine, daha sonra soğuk balkona koymuştur.
D) Balonu önce gölge bir yere, daha sonra gün ışığı alan bir yere koymuştur.


8. Aşağıda bir canlı grubuna ait özellikler verilmiştir:

- Büyük bir çoğunluğu karada yaşar.
- Sürünerek hareket ederler.
- Akciğer solunumu yaparlar.
- Yumurtlayarak çoğalırlar.

Aşağıdakilerden hangisi özellikleri belirtilen canlı grubuna örnek olarak verilemez?

- A)  Solucan
B)  Timsah
C)  Yılan
D)  Su kaplumbağası

9. Fatih, farklı özelliklere sahip camlardan oluşan pencereden içeri bakıyor.

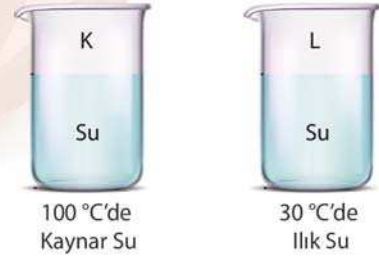


- K camından baktığında odanın içini bulanık görüyor.
- L camından baktığında odanın içini net görüyor.
- M camından baktığında odanın içini göremiyor.

Buna göre K, L ve M camlarının özellikleri, aşağıdakilerden hangisinde doğru olarak verilmiştir?

	Opak	Saydam	Yarı Saydam
A)	M	K	L
B)	M	L	K
C)	L	M	K
D)	K	L	M

10. Aşağıdaki K beherglasında 100 °C'de kaynar su, L beherglasında 30 °C'de ılık su bulunmaktadır.

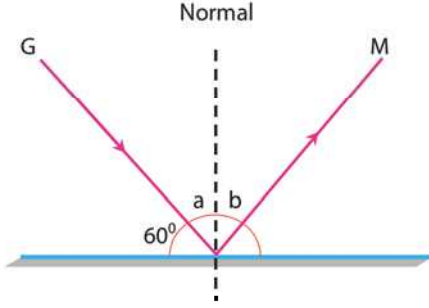


Her iki beherglasa sıcaklığı 50 °C olan bir miktar su ekleniyor.

Buna göre, beherglaslardaki sularla ilgili aşağıda verilen bilgilerden hangisi yanlıştır?

- A) Her iki beherglasta da ısı alışverişi gerçekleşir.
B) K beherglasındaki suyun sıcaklığı azalır.
C) L beherglasındaki suyun sıcaklığı artar.
D) L beherglasına eklenen su, kaptaki sudan ısı alır.

11. Aşağıdaki şekilde düzlem aynada ışığın yansıması gösterilmiştir.



Düzlem aynada ışığın yansımasını gösteren şekle göre, aşağıda verilen bilgilerden hangisi doğrudur?

- A) b açısının değeri a açısına eşit ve 30° 'dir.
 B) M ışını gelen ışın, G ışını yansıyan ışındır.
 C) Normal ile yüzey arasındaki açı 60° 'dir.
 D) Gelen ışın, yansıyan ışın ve normal farklı düzlemedir.

12. Mehmet, ellerinin gölgesi ile uçmakta olan bir kuş görüntüsü elde etmiştir.



Mehmet, daha büyük bir kuş gölgesi oluşturmak istediğine göre, aşağıdaki değişikliklerden hangisini yapmalıdır?

- A) Ellerini duvara yaklaştırmalıdır.
 B) Işık kaynağını ellerinden uzaklaştırmalıdır.
 C) Ellerini ışık kaynağına yaklaştırmalıdır.
 D) İki adet ışık kaynağı kullanılmalıdır.

13. Biyoçeşitlilik, bir bölgedeki canlı çeşidinin sayıca fazla olmasıdır. Biyoçeşitliliği oluşturan canlıların sayısının ve çeşitliliğinin fazla olması, o bölgede yaşayan tüm canlıları ve cansız çevreyi olumlu yönde etkiler.

Aşağıda verilenlerden hangisi biyoçeşitliliğin olumlu etkilerinden biri değildir?

- A) Havanın, suyun ve toprağın korunmasını sağlar.
 B) Aile ve ülke ekonomisine katkı sağlar.
 C) Tarımın, eczacılıktan önemli hâle gelmesini sağlar.
 D) Doğal yaşamın dengede kalmasını sağlar.

NARTEST

14. Eren, aşağıdaki özdeş iki saksı bitkisinden bir taneşinin toprağına pil gömmüştür. Bitkileri ışık alan bir ortamda düzenli olarak suladığında, toprağına pil gömdüğü bitkinin gelişmediğini fark etmiştir.



Toprağına pil gömüyor ve ışıklı ortamda düzenli olarak suluyor.



Işıklı ortamda düzenli olarak suluyor.

Eren'in yapmış olduğu deneyden yola çıkılarak, çevre sorunlarıyla ilgili aşağıdaki çıkarımlardan hangisi yapılabilir?

- A) Araba egzozlarından çıkan gazlar hava kirliliğine neden olur.
 B) Çevreye bırakılan atıklar toprağın verimliliğini düşürebilir.
 C) Çevreye bırakılan bazı atıklar doğa tarafından kolayca yok edilebilir.
 D) Toprağına karışan tarım ilaçları toprak kirliliğine neden olabilir.

15. Aşağıdaki görsellerde yıkıcı doğa olaylarına örnekler verilmiştir.



Volkan Patlaması:

Yer kabuğunun alt katmanlarındaki magmanın, yer kabuğundaki çatlaklardan sızarak yeryüzüne ulaşmasıdır.

Hortum:

Sıcak ve soğuk havanın aniden yer değiştirmesiyle ve hızlı bir şekilde dönmesiyle oluşan güçlü hava hareketidir.



Heyelan:

Yer kabuğu üzerinde bulunan verimli toprağın rüzgâr, su vb. nedenlerle aşınıp taşınmasıdır.

Kuvvetli yağış ve sel:

Aşırı yağış sonucu evlerin, yolların ve tarım alanlarının sular altında kalmasıdır.

Görseller ve altındaki açıklamalar incelendiğinde, hangi doğa olayının altında verilen açıklamanın yanlış olduğu anlaşılır?

A) Volkan patlaması

B) Hortum

C) Heyelan

D) Kuvvetli yağış ve sel

5.
sınıf

ÖĞRENCİLERİN DİKKATİNE

1. Cevap kâğıdınızı silinmeyen bir kalemle imzalayınız.
2. Cevaplamaya istediğiniz sorudan başlayabilirsiniz.
3. Cevaplarınızı, cevap kâğıdındaki ilgili soru numarasını dikkate alarak yuvarlağın dışına taşırmeden kurşun kalemle kodlayınız.
4. Cevabını bilmediğiniz sorular üzerinde fazla zaman kaybetmeden diğer sorulara geçiniz. Zamanınız kalırsa bu sorulara daha sonra dönebilirsiniz.
5. Soru kitapçığının içindeki boş alanları çözümlerinizi için kullanabilirsiniz.
6. Soru kitapçığının sayfalarını görevlilerin uyarıları doğrultusunda kontrol ediniz, baskı hatası var ise değiştirilmesini sağlayınız.
7. Soru kitapçığı üzerinde yapıлып cevap kâğıdına işaretlenmeyen cevaplar değerlendirilmeye alınmayacaktır.
8. Değiştirmek istediğiniz bir cevabı, yumuşak silgiyle cevap kâğıdını yıpratmadan temizce siliniz ve yeni cevabınızı kodlayınız.
9. Cevap kâğıdınızı sınav süresince hiçbir öğrencinin göremeyeceği şekilde önünüzde bulundurunuz.
10. Sınav bitiminde, soru kitapçığı ve cevap kâğıdını salon görevlilerine teslim ediniz.

Copyright©ALTIN NOKTA

Bu kitabın her hakkı saklıdır. Tüm hakları ALTIN NOKTA YAYINEVİ'ne aittir. Kismen de olsa alıntı yapılamaz. Metinler, kitabı yayımlayan kurumun önceden izni olmaksızın elektronik, mekanik, fotokopi ya da herhangi bir kayıt sistemiyle çoğaltılamaz, yayımlanamaz



Altın Nokta

NOKTA



5. SINIF | 22 NİSAN KURUMSAL DENEME SINAVI CEVAP ANAHTARI

Soru No	SÖZEL BÖLÜM				SAYISAL BÖLÜM	
	TÜRKÇE	SOSYAL BİLGİLER	DİN KÜLTÜRÜ VE AHLAK BİLGİSİ	İNGİLİZCE	MATEMATİK	FEN BİLİMLERİ
1.	C	A	D	C	B	B
2.	C	B	C	D	C	C
3.	A	D	C	A	C	B
4.	B	C	D	C	D	D
5.	A	A	C	C	D	D
6.	A	B	A	B	B	A
7.	B	D	B	A	C	C
8.	A	D	A	D	C	A
9.	C	B	D	B	C	B
10.	C	C	B	C	C	D
11.	D				B	A
12.	B				A	C
13.	C				C	C
14.	C				B	B
15.	B				B	C